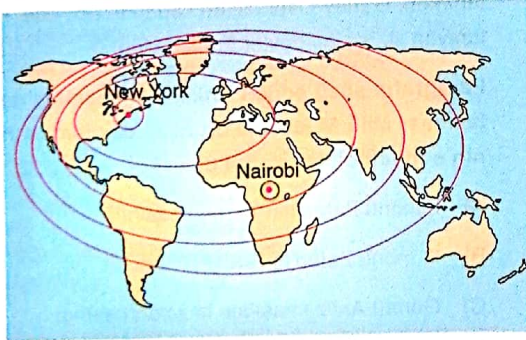


34. Lozan Barış Konferansı'nda Yeni Türk Devleti'nin aşağıdaki sınırlarından hangisi konusunda mutabakata varılamamış ve çözümü daha sonra yapılacak ikili görüşmelere ertelenmiştir?

- A) Sovyet Sınırı  
B) Yunan Sınırı  
C) Suriye Sınırı  
D) Bulgar Sınırı  
E) Irak Sınırı

35. Aşağıdaki haritada New York ve Nairobi'nin etki alanları verilmiştir.



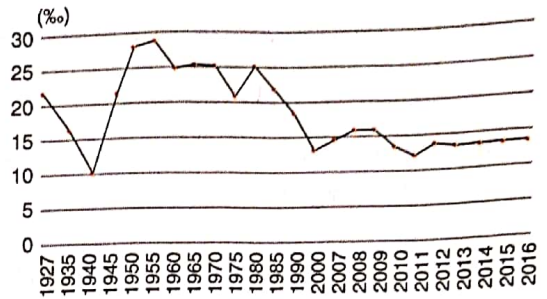
Etki alanlarının farklı olmasında;

- I. yüzölçümleri,  
II. nüfus yoğunlukları,  
III. ekonomik gelişme seviyeleri,  
IV. iklim özellikleri

etmenlerinden hangilerinin etkili olduğu söylenebilir?

- A) Yalnız I  
B) Yalnız II  
C) Yalnız III  
D) I ve III  
E) III ve IV

36. Grafikte Türkiye'nin bazı yıllara göre nüfus artış hızı verilmiştir.



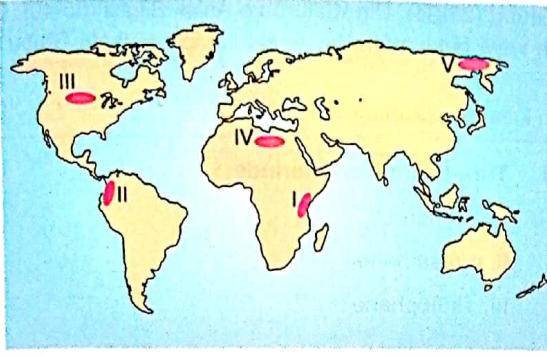
Buna göre, aşağıdakilerden hangisi söylenemez?

- A) Nüfus artış hızında dalgalanmalar olmuştur. ✓  
B) Nüfus bazı dönemlerde artmış, bazı dönemlerde azalmıştır. ✓  
C) Nüfus artış hızının en düşük olduğu dönem 1940-1945 arasındır. ✓  
D) Bazı dönemlerde nüfus artış hızı aynıdır. ✓  
E) Nüfus sürekli artma eğilimindedir. ✓

Nüfus dinamik bir etkidir ve sürekli artar. Nüfus artış hızı düşse bile bir ülkede kitlesel ölümler olmadığı, ölüm oranları doğum oranları ni geçmediği müddetçe bir ülkenin nüfusu azalmaz.

⇒ Bir ülke yada şehrin gelişme sinde ve etki alanının gelişme sinde (küresel) ekonomik faaliyetlerin gelişme seviyesi önemlidir. Newyork Düny'da sanayi, hizmet gibi sek. geliştirdiği, küresel et. sahip 12 önemli bir şehirdir. Diğer sayfaya geçiniz.

37.



Yukarıdaki haritada numaralı yerlerden hangisinde, hem ham madde, hem de üretim ve pazar alanı daha geniştir?

- A) I B) II C) III D) IV E) V

Verilen yerler içinde üretim fazla, nüfus yoğunluğunun yanı sıra pazarın en fazla geliştiği yer III numaralı alan yani ABD'dir.

38. Aşağıdakilerden hangisi arazinin verimli kullanılması ile ilgili olarak yanlış bir uygulamadır?

- A) Tarım alanlarının yerleşmeye açılmaması ✓  
 B) Fabrikalar kurulurken bölgenin rüzgâr yönünün dikkate alınması  
 C) Ulaşım yollarının mümkün olduğunca kullanılmayan arazilerden geçirilmesi  
 D) Çalışanların ulaşım sorunu yaşamaması için sanayi bölgelerinin kentin yakınına kurulması  
 E) Organize sanayi bölgeleri kurulurken kentin büyüme yönü ve hızının dikkate alınması

Sanayinin kentin yakınına kurulması nüfusun artmasına yol açar ki, bu da verimli tarım topraklarının yerleşmeye açılmasına neden olur.

39. • Aşırı soğuk bölgelerde fabrikalarda ısıtma giderlerinin artması iklim +

- Karasal iklim bölgelerinde buğday üretiminin kolay olması iklim +
- Dağlık bölgelerde tarım alanlarının kısıtlı olması yerçekimi
- Engembeli sahalarda ulaşımın zor olması yerçekimi
- Teknolojinin gelişmiş olduğu yerlerde imalat sanayisinin daha kolay gelişmesi Beser: fak.

Yukarıda verilenlerden kaç tanesi iklimin ekonomik faaliyetler üzerindeki etkisine örnek verilebilir?

- A) 1 B) 2 C) 3 D) 4 E) 5

40. Aşağıdakilerden hangisi doğal kaynaklardan sürdürülebilir şekilde yararlanmaya örnek olarak gösterilebilir?

- A) Fosil yakıtların kullanımının yaygınlaşması  
 B) Tarım topraklarının ham madde olarak kullanılması  
 C) Ormanlık faaliyetlerinde, kesilen ağaçların yerine yenisinin dikilmesi  
 D) Meraların tarım alanı haline getirilmesi  
 E) Denizlerde aşırı avlanma yapılması

TÜRK DİLİ VE EDEBİYATI  
 SOSYAL BİLİMLER-1 TESTİ BİTTİ.  
 SOSYAL BİLİMLER-2 TESTİNE GEÇİNİZ.