

5. 28 Ocak 1920'de son Osmanlı Mebusan Meclisi'nde kabul edilen Misak-ı Milli'nin maddelerinden biri şudur:

-"Osmanlı Devleti'nin Mondros Ateşkes Anlaşması'nı imzaladığı (30 Ekim 1918) tarihte düşman işgaline uğramamış yerler bir bütündür, bölünemez."

Misak-ı Milli'nin verilen maddesine bakılarak aşağıdakilerden hangisi söylenemez?

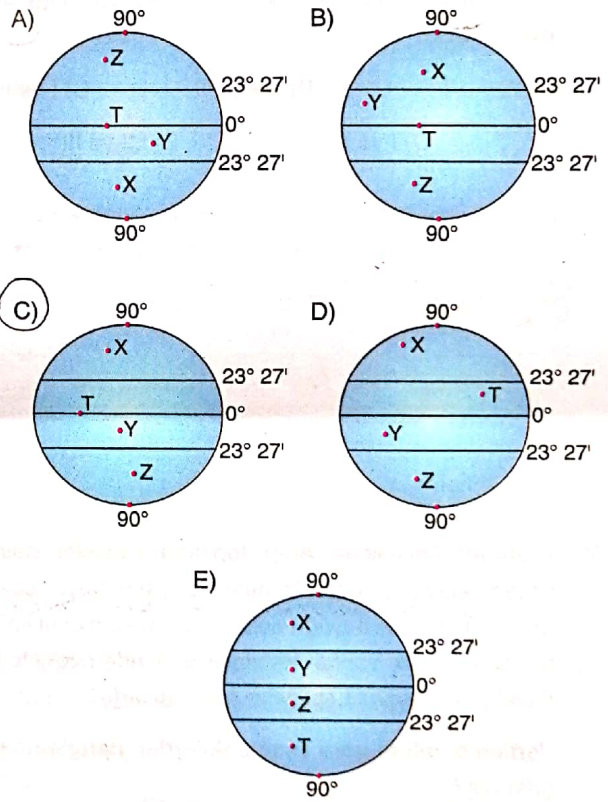
- A) Vatan topraklarının haritası görsel olmadan belirtilmiştir.  
B) Mondros sonrası işgaller kabul edilmemektedir.  
C) Anadolu'daki işgallere direniş gösterileceği belirtilmiştir.  
D) Osmanlı Devleti Millî Mücadele'yi desteklemektedir.  
E) Osmanlı Mebusan Meclisi Millî Mücadele'ye Misak-ı Millî ile katkı sağlamıştır.

6. Aşağıdakilerden hangisi beşeri ve ekonomik coğrafyanın inceleme alanında yer almaz?

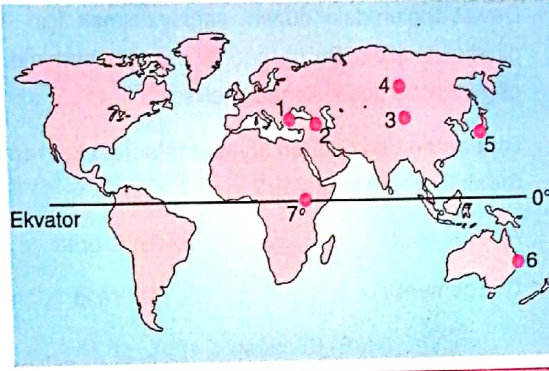
- A) Toroslar'da yaygın olan geçici yerleşme tipi ve hayvancılık türü *Nüfus-Yerleşme Coğr. (Beşeri)*  
B) Türkiye'de fay alanları ile deprem bölgeleri arasındaki ilişki *Doğal Afetler Coğr. (Fiziki)*  
C) Türkiye'de sanayinin dağılışı ile nüfus ve yerleşme oranı arasındaki ilişki *Sanayi Coğr. (Ekonomik)*  
D) Türkiye'de linyit madenin yaygın olarak çıkarıldığı alanlar *Madenler Coğr. (Ekonomik)*  
E) Dünya'da ticaretin yoğunlaştığı bölgeler *Ticaret Coğr. (Ekonomik)*

7. • X merkezinde bakı yönü yıl boyunca güney yamaçtır. *KYK'de Yengeç D. dizinde*  
• Y merkezinde 21 martta bakı yönü kuzey, 21 aralıkta ise güney yamaçtır. *Ekvatorla Oğlak D. arasında*  
• Z merkezinde bakı yönü yıl boyunca kuzey yamaçtır. *GyK'de Oğlak D. dizinde*  
• T merkezinde bakı yönü yıl boyunca değişkendir. Ekinoks günü güneş ışınlarını dik açıyla alır. *Ekvator'da*

Özellikleri verilen X - Y - Z ve T merkezlerinin buldukları yerler aşağıdakilerden hangisinde doğru verilmiştir?



8.



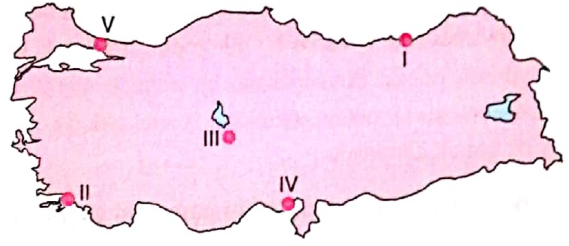
Sıra	Kentler	Sıcaklık (°C)		
		Ocak ortalama	Temmuz ortalama	Yıllık ortalama
1	İstanbul	5	22	13,5
2	Erzurum	-10	16	3
3	Kaşgar (Çin)	-5	18	6,5
4	Yakutsk (Rusya Fed.)	-30	10	10
5	Tokyo (Japonya)	6	19	12,5
6	Sidney (Avustralya)	20	4	12
7	Kisumu (Kenya)	30	25	27,5

Yukarıdaki haritada yerleri gösterilen bazı kentlerin ocak ve temmuz dönemlerindeki sıcaklıkları ve yıllık sıcaklık ortalamaları verilmiştir.

Buna göre, aşağıdakilerden hangisi söylenemez?

- A) İstanbul ve Sidney'in ocak ve temmuz ayı sıcaklıklarının farklı olması eksen eğikliği ve yıllık hareketle ilgilidir. Aynı anda farklı mevsim ✓
- B) Kisumu'nun ortalama sıcaklığının diğer kentlere göre daha yüksek olması enlem faktörüyle ilgilidir. Ekvatora yakın
- C) Kaşgar ve Tokyo'nun sıcaklıklarının farklı olmasının nedeni enlem etkisidir. Yükselti ve karasallık
- D) Yakutsk'un soğuk olmasında karasallık ve enlem etkilidir. Kutba yakın
- E) Tokyo ve Yakutsk'un sıcaklıklarının farklı olmasında enlem ve denizellik etkilidir. ✓

9.



- Dağlık ve engebeli olmasına rağmen nüfuslanma fazladır. I Kıyıda iklim iliman ekonomik faaliyet fazla
- İklim koşulları uygun olmasına rağmen yer şekilleri engebeli olduğundan nüfuslanma azdır. II mertese Y.
- Yüzey şekilleri sade olmasına rağmen su kaynakları yetersiz olduğundan nüfuslanma azdır. III
- Tarım alanlarının geniş olması ve tarıma dayalı sanayi kollarının gelişmiş olması nüfuslamayı artırmıştır. IV

Haritada numaralandırılarak verilen yerlerden hangisi ile ilgili bilgi verilmemiştir?

- A) I B) II C) III D) IV  E) V

V numaralı alan yani Çatalca-Kocaeli Platosu ile ilgili bilgi verilmemiştir. Bu alan Türkiye'nin en gelişmiş bölgesi olduğundan nüfusun yoğun olduğu yerdir.

10. Aşağıda verilen doğal afetlerden hangisi kökeni bakımından diğerlerinden farklıdır?

- A) Kasırga B) Tsunami C) Deprem  
D) Heyelan E) Volkanizma

Tsunami, Deprem, Volkanizma ve Heyelan Jeolojik - Jeomorfolojik kökenli doğal afetlerken, (Yerkabuğu üzerinde oluşur) Kasırga Meteorolojik kökenli (Atmosferde oluşur) doğal afettir.