



1.

Sosyal Bilgiler Dersinin Amaçları



Emir, salı günü ailesi ile birlikte Beyşehir Gölü'ne pikniğe giderken yol kenarlarına bırakılan çöplerin kokusunu alır. Göle yaklaştıkça koku artmış ve çok rahatsız edici bir hâl almıştır. Bu durum karşısında çok üzülen Emir, konu ile ilgili neler yapabilirim diye düşünürken aklına sosyal bilgiler dersinde öğretmeninin, "Karşılaştığınız bir sorunu bildirmek için birey olarak ilgili yerlere dilekçe yazma hakkınızın olduğunu unutmayın." sözü gelir. Emir eve gelir gelmez ilgili yerlere yaşadığı olayı anlatan bir dilekçe yazar. Kısa bir süre sonra Beyşehir Gölü'ne gittiğinde çöplerin toplandığını ve gölün etrafının çok temiz olduğunu görür ve çok mutlu olur.

Verilen bu bilgilerden hareketle sosyal bilgiler dersinin amaçları ile ilgili aşağıdakilerden hangisine ulaşamaz?


- A) Toplumda etkin ve bilinçli bireyler yetiştirmeyi hedefler.
- B) Biyolojik canlıların yaşam alanları hakkında bilgiler verir.
- C) Haklarını hukuki yollardan aramayı öğretir.
- D) Çevresindeki olaylara karşı bireylerde duyarlılık oluşturur.

İşleyen Zeka Yayınları

2.



Doğu Anadolu'da yaz aylarının sıcak ve kurak geçmesi tahıl üretimine uygun şartlar sağlamaktadır.



Karadeniz kıyısında yer alan Rize'nin yağışlı ve nemli havası çay üretimine uygun bir ortam oluşturmaktadır.

Bu bilgilere göre aşağıdaki yargılardan hangisine ulaşılabilir?

- A) İklim çeşitliliğinin yeraltı kaynakları üzerinde etkili olduğuna
- B) Ulaşım ağının gelişmesinin ticari faaliyetlere katkı sağladığına
- C) İklimin bölgelerde yetişen tarım ürünü çeşidi üzerinde etkili olduğuna
- D) Tarımsal faaliyetlerin gelişiminde teknolojinin etkili olduğuna


3.

Urartular



Başketi Tuşpa'dır.

Ölülerini değerli eşyaları ile birlikte odalardan oluşan mezarlara gömmüşlerdir.



Düşman saldırıları için sağlam taş surlar inşa etmişlerdir. Van Kalesi bunun en güzel örneğidir.

Fırat Nehri'nin bereketli suyundan yararlanmak için "şamran" adı verilen büyük su kanallarını inşa etmişlerdir.



Verilen bu bilgilerden hareketle Urartular ile ilgili;

- I. ölümden sonraki hayatın varlığına inandıkları, ✓
 - II. savunmaya önem verdikleri, ✓
 - III. ticari faaliyetlerde ileri oldukları
- çıkarımlarından hangilerine ulaşılabilir?

A) Yalnız I

B) Yalnız II

C) I ve II

D) I, II ve III

İşleyen Zeka Yayınları

4. Üzerinde yaşadığımız topraklar kültürel geçmişinin fazla olmasından dolayı birbirinden farklı kültürel öğeye sahip olmuştur. Anadolu'nun kültür yelpazesi oldukça gelişmiştir. Aşağıda farklı şehirlerde düğünlerde oynayan bazı oyunlar anlatılmıştır.



Diyarbakır ve Hakkâri çevresinde düğünlerde genellikle davul ve zurna eşliğinde halay çekilmektedir.



Muğla ve İzmir çevresinde düğünlerde genellikle harman dalı çalınır. Efeler geleneksel kıyafetleri ile zeybek oynarlar.

Bu durumun aşağıdakilerden hangisine örnek olduğu söylenebilir?

A) Kültürel zenginliğe

C) Kültürel yozlaşmaya

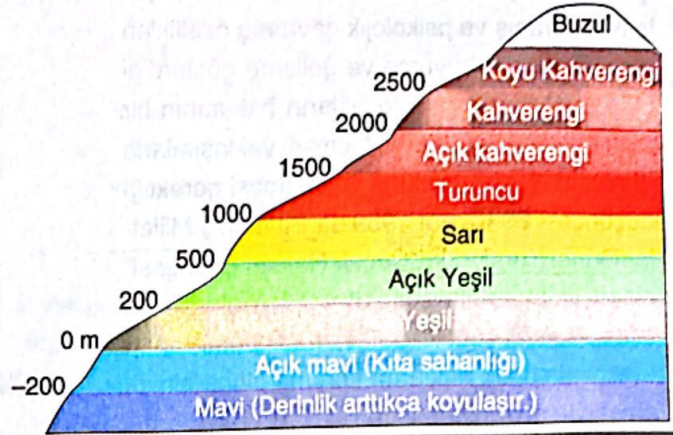
B) Kültürel etkileşime

D) Kültür aktarımına

5.

Yükselti basamaklarına göre yeryüzü şekillerinin dağılışını gösteren haritalara fiziki harita denir.

Fiziki haritada renkleri doğru okuyarak yaşadığımız yerin yeryüzü şekilleri hakkında bilgi sahibi olabiliriz. Fiziki haritada hangi rengin hangi yükseltiye denk geldiği yandaki şekilde gösterilmiştir.



Aşağıda bazı dağların yükselteleri verilmiştir.

I. Ilgaz Dağı → 1443 m

II. Güzeller Dağı → 2450 m

III. Hasan Dağı → 150 m

Verilen bilgilere göre bu dağların fiziki haritada renkleri sırasıyla nasıl olmalıdır?

	I	II	III
A)	Turuncu	Kahverengi	Yeşil
B)	Sarı	Yeşil	Mavi
C)	Açık Yeşil	Koyu Kahverengi	Sarı
D)	Kahverengi	Sarı	Turuncu

İşleyen Zeka Yayınları

6.

Gelişen teknoloji sayesinde toplumsal yaşantımızın birçok noktasında büyük gelişmeler ve değişimler yaşanmıştır. Bunlardan birisi de uzaktan kumanda ile kontrol edilen akıllı cihazlar sayesinde tarladaki ürünlere zarar vermeden ürünlerin ilaçlanmasında kolaylıklar sağlayan akıllı dronelerdir. Bu akıllı cihazlar sayesinde tarlalardaki ürünlerin ilaçlanması daha hızlı yapılır bir hâle gelmiş ve tohumların tarlaya eşit bir şekilde dağıtılması sağlanmıştır. Bu teknolojik gelişim sayesinde çiftçilerin ekim alanlarından daha çok verim elde ettikleri görülmüştür.



Verilen bu bilgilerden hareketle aşağıdaki yargılardan hangisine ulaşılabılır?

- A) Teknolojik gelişmeler her yerde aynı şekilde ilerlemiştir.
- B) Yeni icatlar toplumda ticari faaliyetleri yavaşlatmıştır.
- C) Teknolojik gelişmeler gündelik yaşamda kolaylıklar sağlamıştır.
- D) Buluşların ortaya çıkmasında ulaşım ağı önemli bir yere sahiptir.

7. Çocukların yetişkinlerden farklı fiziksel, fizyolojik, davranış ve psikolojik davranış özellikleri olduğu, sürekli büyüme ve gelişme gösterdiği bilincinin yerleşmesi, çocukların bakımının bir toplum sorunu olduğu ve bilimsel yaklaşımlarla herkesin bu sorumluluğu yüklenmesi gerektiği düşüncesi 20 Kasım 1959'da Birleşmiş Milletler Genel Kurulunda "Çocuk Hakları Bildirgesi" olarak kabul edilmiştir. 10 ilkeden oluşan bu bildiri dünya çocukları için hazırlanmış olup evrensel çocuk haklarını koruma altına almak amacıyla düzenlenmiştir.

Verilen bilgilere göre aşağıdakilerden hangisine ulaşamaz?

- A) Çocuk haklarının evrensel bir konu olduğuna ✓
 B) Çocukların yetişkinlerden farklı özelliklere sahip olduğuna ✓
 C) Çocuk haklarının, toplum içerisinde tam anlamıyla korunduğuna
 D) Çocukların korunmasında yetişkinlerin sorumluluklarının olduğuna ✓

8.



Ülkemizin Karadeniz kıyısında Rize ili sınırları içerisinde yer alan, en önemli doğal güzelliklerdendir.

Karadeniz'de yer alan bu doğal güzellik Türkiye'nin temiz havasının bulunduğu yerlerden biridir. Bu özelliğinden dolayı bölge her yıl binlerce yerli ve yabancı turisti çekmektedir. Gelen turistler bölge ve ülke ekonomisine önemli katkılar sağlamaktadır.

Yukarıda tanımlanması yapılan yer aşağıdakilerden hangisidir?

- A) Ayder Yaylası ✓ B) İhlara Mesiresi
 C) Kelebekler Vadisi D) Yazılı Kanyonu

9.

Merhaba benim adım Cansu. 12 yaşındayım. Biz Doğu Anadolu'nun şirin bir ili olan Şırnak'ta yaşıyoruz. Yaşadığımız bölgede yükseltinin fazla olmasından dolayı bölgemizdeki arazi engebelidir. Buna bağlı olarak bölgemizde sanayi tesislerin kurulması zor olduğu için birçok aile sanayi ve ulaşım ağının geliştiği tarımsal üretime uygun olan büyük şehirlere göç etmektedir.



Bu anlatıma bakılarak aşağıdaki yargılardan hangisine ulaşılabilir?

- A) Madenciliğin nüfus üzerinde etkili olduğuna
 B) Yükseltinin nüfus üzerinde etkili olduğuna ✓
 C) Hayvancılığın nüfus üzerinde etkili olduğuna
 D) Kültürel gelişimin nüfusa etkisi olduğuna

10.

BİLİM İNSANININ ÖZELLİKLERİ

- Meraklıdır.
- İyi bir gözlemcidir.
- Hata yapmaktan korkmaz, hataların başarıya ulaştıran aşamalar olduğunu bilir.
- Şüphelidir.
- Çalışmalarını sonuca ulaşana kadar sürdürür.

Verilen bilgilerden hareketle bilim insanı ile ilgili;

- I. Çalışmalarında kararlı bir tutuma sahiptir. ✓
 II. Cesurdur ve araştırmayı sever. ✓
 III. Hata yapmayı alışkanlık hâline getirir.
- yargılarından hangilerine ulaşılabilir?

- A) Yalnız I B) Yalnız II
 C) I ve II ✓ D) I, II ve III

**SOSYAL BİLGİLER TESTİ BİTTİ.
 DİN KÜLTÜRÜ VE AHLAK BİLGİSİ
 TESTİNE GEÇİNİZ.**