

Bilgi Donal

9. sınıf tarih

10 Mayıs

Bu testte sırasıyla, Tarih (1-12), Coğrafya (13-24), Din Kültürü ve Ahlak Bilgisi (25-30) alanlarına ait toplam 30 soru vardır.


1.

Bilim Dalı	Tanım
Arkeoloji	Kazı bilimi olarak da adlandırılır. Yerin ve suların altında kalan kalıntıların ortaya çıkarılmasını sağlar.
Etnografya A	Kültür bilimi olarak da adlandırılır. Toplumların örf, adet, gelenek ve göreneklerini inceler.
Paleografya	Eski yazıları ve alfabeleri çözümlenerek bunların günümüz dillerine çevrilmesini sağlar.
Nümizmatik B	Her türlü parayı inceleyerek devletin hükümdarı, yönetim şekli, ekonomik gücü vb. hakkında bilgi verir.
Kronoloji C	Zaman bilimi olarak da adlandırılır. Tarihsel olayların geçmişten günümüze sıralanmasını kolaylaştırır.

Tabloda harflerle gösterilen yerlere sırasıyla gelmesi gereken bilim dalları hangileridir?

- A) Antropoloji – Kronoloji – Epigrafya
 B) Epigrafya – Nümizmatik – Heraldik
 C) Etnografya – Nümizmatik – Kronoloji
 D) Heraldik – Filoloji – Kronoloji
 E) Filoloji – Antropoloji – Epigrafya

3.



Günümüzden 17 bin yıl öncesine ait olduğu düşünülen ve Fransa'daki Lascaux Mağarası'nda bulunan yukarıdaki resimden yola çıkarak insanların;

- I. dokumacılık,
 II. avcılık,
 III. alet yapımı

becerilerinden hangilerine sahip olduğu söylenebilir?

- A) Yalnız I
 B) Yalnız II
 C) Yalnız III
 D) I ve III
 E) I ve II

Geyik avlıyorlar = Avcılık
 Ok kullanıyorlar = alet yapımı

2. İlk Çağ'da görülen gelişmelerin ortaya çıkmasında coğrafi etkenler ve toplumsal ihtiyaçlar etkili olmuştur.

Buna göre;

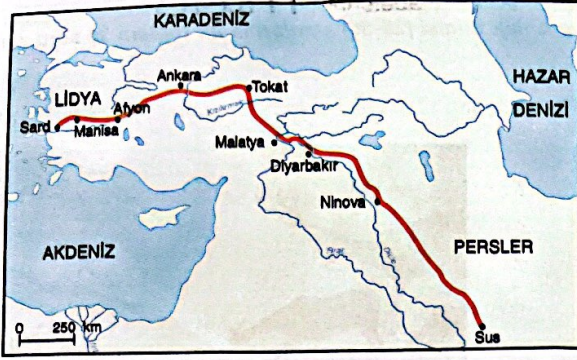
- I. Fenikelilerin alfabeyi icat etmesi,
 II. Urartuların sulama kanalları inşa etmesi,
 III. İyonyalıların denizcilik alanında ilerlemesi

gelişmelerinden hangilerinin görülmesinde coğrafi koşulların etkili olduğu söylenebilir?

- A) Yalnız I
 B) Yalnız II
 C) Yalnız III
 D) I ve II
 E) II ve III

van'dalar → Tarımla uğrassacaklar
 İyonya - İzmir'de = Denizcilikle uğrassacak.
 Bulurdıkları coğrafi konum uygarlıkların gelişmesinde etkilidir.

4.



Haritada verilenler dikkate alındığında Kral Yolu ile ilgili aşağıdakilerden hangisine ulaşılabilir?

- A) Tarih Öncesi Devirlerde yapıldığına
- B) Farklı coğrafyalar arasında köprü görevi gördüğüne
- C) Lidyalılar tarafından inşa edildiğine
- D) Anadolu nüfusunun artmasında etkili olduğuna
- E) Bütün Mezopotamya medeniyetleri tarafından kullanıldığına

→ Anadolu ile Mezopotamya, birbirine bağlanmıştır.

5.

Orta Çağ'da başından sonuna kadar varlık gösteren ve Bizans olarak adlandırılan Doğu Roma İmparatorluğu'nun egemenlik sahasında aşağıdaki coğrafyalardan hangisi yer almaz?

- A) Anadolu
- B) Mısır
- C) Suriye
- D) Arabistan
- E) Filistin

→ Hz. Muhammed
Dört Halife
Emiri - Abbasi

Sırasıyla bu dönemlerde onların elindeydi.

Bizans'a hiç geçmemiştir.

6.

Orta Çağ'da ticari faaliyetlerin düzenli olarak yürütülmesini ve üretim faaliyetlerinin canlandırılmasını sağlamak amacıyla çeşitli ticari mekânlar ortaya çıkmıştır.

Aşağıdakilerden hangisi bu ticari mekânlara örnek olarak gösterilemez?

- A) Arasta → Aynı esnaf grubu
- B) Kapan → Tek bir cinsten malın satıldığı yer.
- C) Ribat → Karahanelerde konversasyon
- D) Şato → Orta Çağ'da kalınan yer - kervanbeyler
- E) Panayır → Her türlü ürünün bulunduğu

7. Kagan Kağan Dönemi'nde II. Kök Türk Devleti'nin dış politika esasları şunlardır:-

- Çin'i sürekli baskı altında tutarak İpek Yolu'nda denetim sağlamak
- Çin'in değişik bölgelerinde yaşayan Türkleri bir bayrak altında toplamak ve Çin'in Türkleri Çinleştirme politikalarını önlemek

Buna göre Kagan Kağan'ın dış politikadaki amaçları arasında aşağıdakilerden hangisi yer almaz?

- A) Çin'in ekonomik gücünü kırmak
- B) Türk siyasi birliğini kurmak
- C) Türklerin asimilasyona uğramasını önlemek
- D) Çin'de Gök Tanrı inancının yayılmasını sağlamak
- E) Orta Asya'da ekonomik üstünlüğü ele geçirmek

Çinlileşmeyi önlemek diyor.
Gök tanrısını yayma politikası yok.

9. Orhun kitabelerindeki "Doğuda gün doğusuna, güneyde gün ortasına, batıda gün batısına, kuzeyde gece ortasına kadar bütün milletleri kendime tabi kıldım ve hepsini düzene soktum." ifadeleri, Türklerde görülen ---- anlayışının bir sonucudur.

Parçada yer alan boşluğa aşağıdakilerden hangisi getirilmelidir?

- A) hilal taktiği
- B) bozkır sanatı
- C) onlu sistem
- D) cihan hâkimiyeti
- E) töre hukuku

"bütün milletleri kendime tabi kıldım."

Dünya egemen olma düşüncesi.

8. Çin elçisi Vang Yent-Te, Uygurlardan söz ederken "Uygur şehrinde pek çok evler, kuleler ve bahçeler vardır. Uygurlar; zeki, doğru karakterli ve namuslu insanlardır. Altın, gümüş, bakır ve demirden yapılan eşyalar ile vazo ve çanak çömlek yapımında onların gösterdikleri mükemmellik ve fevkalâdelik, Tanrı tarafından âdeta yalnızca onlara verilmiş bir yetenek gibidir." ifadelerini kullanmıştır.

Bu bilgilere göre Uygurların aşağıdakilerden hangisinde gelişmiş oldukları söylenemez?

- A) Yerleşik yaşam tarzı → Evler, bahçeler varmış
- B) Savaşçı toplum yapısı → Din den dolayı savaşçı değiller.
- C) Dürüstlük anlayışına dayalı iş disiplini →
- D) Becerikli el sanatları işçiliği → suazan Genok-çömlekle
- E) Mimari ve madencilik
Uygumis, bakır.

10. Türklerde Kağan dâhil devlet görevlilerinin halka hesap verme ve halkın ihtiyaçlarını karşılama göreviyle yükümlü olmalarına ilişkin belgelere ulaşılması;

- I. sosyal devlet,
- II. teokratik devlet, → dine dayalı yönetim
- III. aristokratik devlet → ailenin yönetimi

anlayışlarından hangilerinin benimsendiğini gösterir?


- A) Yalnız I
- B) Yalnız II
- C) Yalnız III
- D) I ve II
- E) II ve III

halkın ihtiyaçlarını karşılamak için sosyal devlet

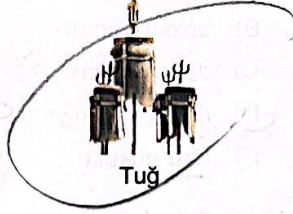
11.



Otağ



Yay



Tuğ

İlk Türk devletlerine ait görselleri verilen hükümdarlık sembolleri dikkate alındığında aşağıdakilerden hangisi söylenebilir?

- A) Ticari faaliyetler ekonominin temelini oluşturmuştur.
- B) Bağımsız yaşama arzusu göç hareketlerine neden olmuştur.
- C) Yaşam tarzı, sembollerin belirlenmesinde etkili olmuştur.
- D) Sembollerin ortaya çıkmasında İslam medeniyetinin etkisi görülür.
- E) Semboller, her sene toplanan kurultayda belirlenir.

Göçebe oldukları için
otağ = çadırda kalıyorlar.
savaş akti = bow yay
kültüry

12. Yöneticileri ve halkının bir bölümü Musevi olan Hazarlarda cami, kilise ve sinagoglara rastlanmıştır. Halk arasındaki davalara da Musevi, Müslüman, Hristiyan ve Şamanlardan oluşan hakimler kurulunca bakıldığı saptanmıştır.

Bu bilgilere dayanarak Hazarlara ilişkin aşağıdaki yargılardan hangisine ulaşamaz?

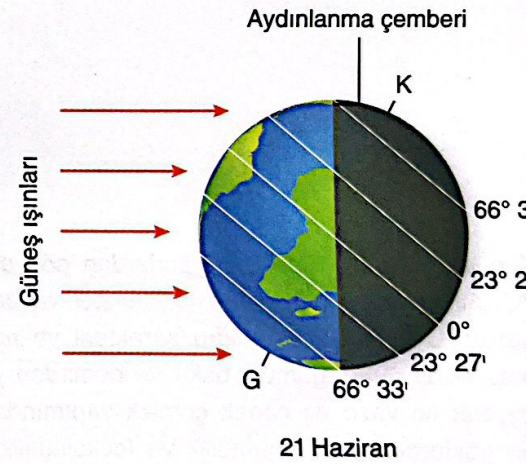
- A) Dinsel hoşgörünün egemen olduğuna *→ Musevi, Müslüman bir arada*
- B) Hukuk sisteminin oluşturulmasında farklı kesimlerin dikkate alındığına *Müslüman - Şaman Hakimler*
- C) Farklı türde dinî yapılar inşa ettiklerine *→ cami - kilise sinagog*
- D) Farklı kültürlerin bir arada yaşadığına
- E) Toplumun dinsel tercihlerinde kaçanların belirleyici olduğuna *→ kimse belirleyici değil hoşgörü var.*

13. Doğa ve insan sürekli etkileşim hâlinindedir. Bazen doğa koşulları insan yaşamına yön verirken bazen de insan, ihtiyaçları doğrultusunda doğaya müdahalelerde bulunur. İnsan doğal ortamdan ihtiyaçları karşılarken, doğaya zarar vermeden doğa ile uyumlu hareket etmelidir.

Buna göre aşağıdaki faaliyetlerden hangisi doğa ile uyumlu olduğu söylenebilir?

- A) Enerji üretimi için rüzgâr santrallerinin kurulması
- B) Bataklıklarının kurutulmasıyla tarım alanlarına dönüştürülmesi
- C) Orman alanlarının tahrip edilerek turizm tesisinin yapılması
- D) Fay kuşaklarına yerleşim alanlarının kurulması
- E) Sanayi atıklarının arıtılmadan akarsulara boşaltılması

14. Aşağıdaki şekilde Dünya'nın, yörüngesi üzerinde dönerken ulaştığı bir konum gösterilmiştir.



Buna göre aşağıdakilerden hangisi Dünya'daki konumdayken gerçekleşmez?

- A) Kuzey Yarımküre'de yaz mevsimi başlar.
- B) Aydınlanma çemberi kutup dairelerine geçer.
- C) Güney Yarımküre'de en uzun gündüz yaşanır.
- D) Güneş ışınları öğle vakti Oğlak Dönencesi gelir.
- E) Kuzey Kutup Dairesi'nde 24 saat gece yaşanır.