



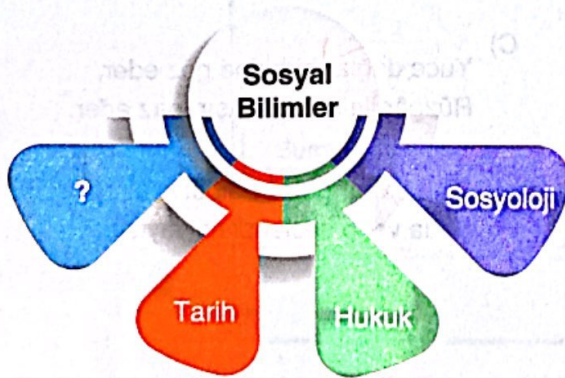
1. Merhaba benim adım Ahmet. Bursa'da ailemle birlikte yaşıyorum. Yaşadığım bu şehirde taksicilik yapıyorum. Evliyim ve iki kız çocuğum var. Çocuklarımı çok seviyorum. Onlar bizim evimizin neşesidir. Boş vakitlerimde onların ödevlerine yardımcı olurum. Anne ve babam da bizimle birlikte kalıyor. Akşam eve geldiğimde ilk iş olarak ellerini öper ve bir sıkıntılarının olup olmadığını sorarım. Sonra eşime sofrayı kurmasında yardımcı olurum.



Bu bilgilere göre Ahmet Bey'in üstlendiği roller ile ilgili aşağıdakilerden hangisi söylenemez?

- A) Aynı anda birden fazla role sahiptir. ✓
B) Sonradan edindiği rolleri vardır. ✓
C) Rollerinin gerektirdiği sorumlulukları yerine getirir. ✓
D) Evlat rolü onun için en önemli roldür.

2. Aşağıda sosyal bilimlere gösteren bir diyagram verilmiştir.



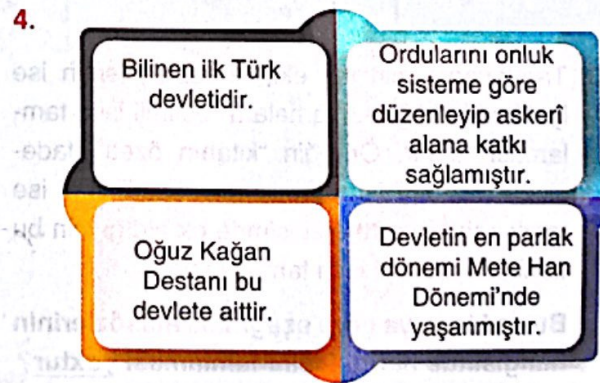
Buna göre "?" ile gösterilen yere aşağıdakilerden hangisi yazılamaz?

- A) Biyoloji (fen) ✓
B) Psikoloji
C) Antropoloji
D) Ekonomi

3. "Toplumlar geçmişten gelen kültürel değerlerini gelecek kuşaklara aktarabilirse eğer kendisine gelecekte bir yer edinebilir. Bu kültürel değerler toplumda bireyler arasında birlik beraberliğin gelişmesine ve dayanışma duygusunun artmasına imkân sağlar. Onun için toplumlar sahip oldukları bu kültürel değerlerini ve zenginliklerini ortaya koydukları masallar, türküler ve şiirler ile gelecek kuşaklara aktarabilir. Bu sözlerin ağızdan ağıza yayılması bu değerlerin zaman içerisinde kaybolmasını engelleyip gelişmesine olanak sağlar. Yani toplumlar söyledikleri masallar ve şiirler kadar yaşarlar."

Verilen bilgide toplumda insanlar arasında birlik ve beraberliğin gelişmesine imkân sağlayan hangi unsura değinilmiştir?

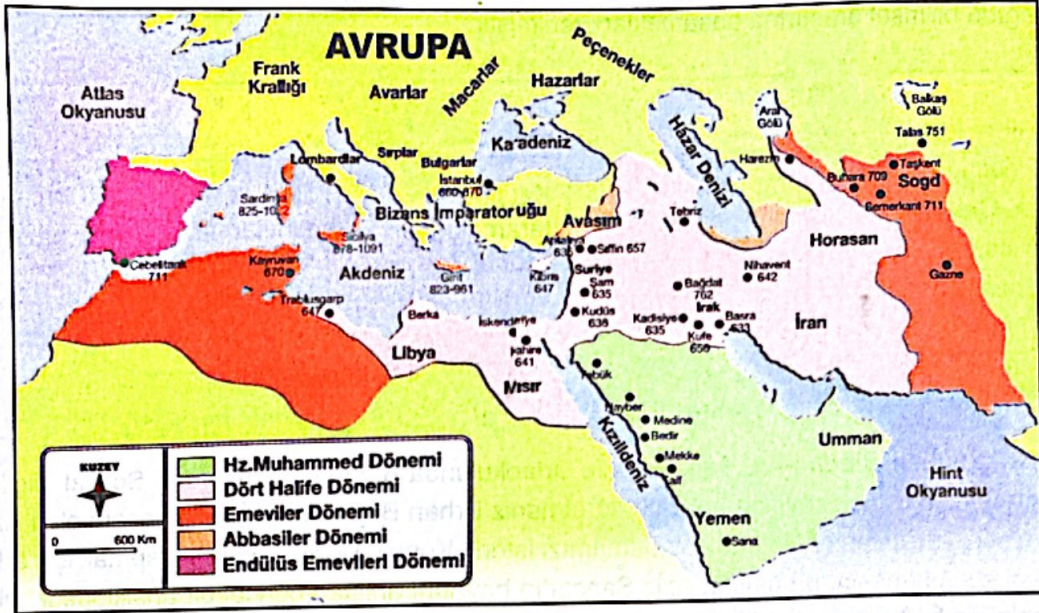
- A) Tarih
B) Din
C) Dil ✓
D) Mimari



Şemada özellikleri verilen Türk devleti aşağıdakilerden hangisidir?

- A) Asya Hun ✓
B) Uygurlar
C) Kök Türk
D) Kırgızlar

5.



Verilen haritaya bakılarak İslamiyet'in yayılması ile ilgili,

- I. İslamiyet Arap Yarımadası'nın dışında da yayılmıştır. ✓
- II. İslamiyet'in dünyaya yayılmasında Türk devletleri etkili olmuştur.
- III. Endülüs Emevileri Dönemi'nde İslamiyet Avrupa kıtasına ulaşmıştır. ✓

yargılarından hangilerine ulaşamaz?

A) Yalnız I

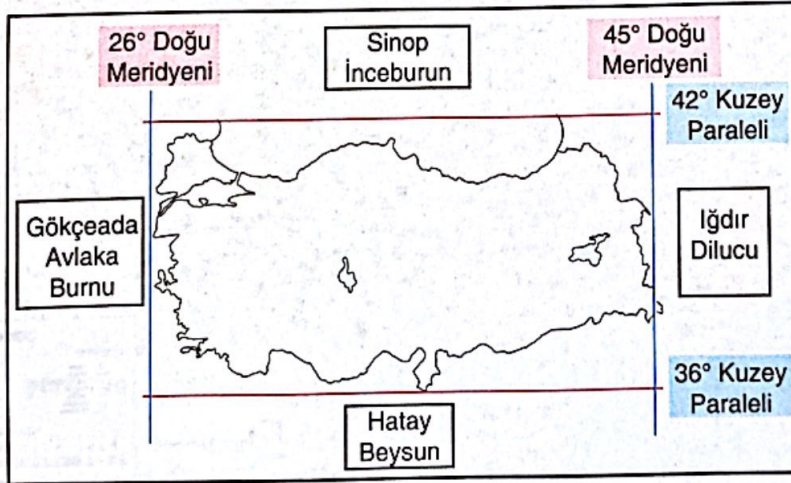
B) Yalnız II

C) I ve II

D) I, II ve III

İşleyen Zeka Yayınları

6. Aşağıda Türkiye'nin dünya üzerindeki mutlak konumu verilmiştir.

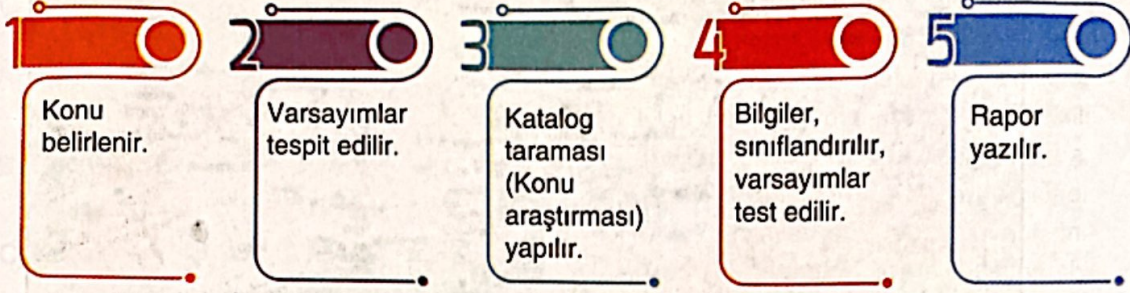


Bu bilgilere göre Türkiye ile ilgili aşağıdaki yargılardan hangisine ulaşamaz?

- A) En kuzeyinde 42 kuzey paraleli bulunmaktadır. ✓
- B) Kuzey Yarım Küre'de yer alan bir ülkedir. ✓
- C) Başlangıç meridyenin doğusunda yer almaktadır. ✓
- D) Yeraltı kaynakları bakımından zengindir.**

Mutlak Konum
(Matematiksel)
Özel Konum

7. Aşağıda bilimsel araştırma basamakları verilmiştir.



Merhaba benim adım Ali. Ben Akdeniz Ortaokulunda 6. sınıfta okuyorum. Sosyal bilgiler dersini ve öğretmenimizi çok seviyorum. Sınıf öğretmeniz Erhan Bey büyük bir bilim insanı olan Aziz Sançar'ın hayatını anlatan bir biyografi hazırlamamızı istedi. Konu ile ilgili araştırma yapmak için arkadaşlarımla okul kütüphanesinde buluşup Aziz Sançar'ın hayatını anlatan güncel bir ansiklopedi bulduk. Araştırmamızın bu kısmını da bitirdiğimiz için çok mutlu olmuştuk.

Bu bilgilere göre Ali ve arkadaşları yukarıda verilen bilimsel araştırma basamaklarının hangisi ile ilgili yaptığı çalışmadan bahsetmiştir?

- A) 1 B) 3 C) 4 D) 5

İşleyen Zeka Yayınları

8.



Sosyal bilgiler dersinde öğretmen Salih Bey 6. sınıf öğrencisi Gözde'ye; "Fiziki haritalarda kahverengi ve tonlarının yoğun olarak görüldüğü, Anadolu'nun doğusu ile ilgili neler söyleyebiliriz?" diye sorar.


Buna göre Gözde'nin verdiği cevaplardan hangisi yanlıştır?

- A) Engebeli araziler fazladır. ✓
- B) Ticari faaliyetler iyi gelişmiştir. ✗
- C) Tarımsal faaliyet yapmak zordur. ✓
- D) Dağ turizmüne uygundur. ✓

9.

"Su gücüyle üretilen elektrik enerjisine hidroelektrik enerji denir. Ülkemizde hidroelektrik enerjisinde Hidro enerji, işleyiş olarak öncelikle büyük miktarlardaki suyun belirlenmiş bir yükseklikten saliverilmesiyle oluşan enerjinin türbin kullanılarak mekanik enerjiye dönüştürülmesi esasına dayanır. Yükseltisi fazla engebeli araziler hidroelektrik potansiyeli bakımından daha verimlidir."

Genç bir girişimci olan Hayri Bey ülkemizin sahip olduğu doğal özelliklerden yararlanarak yükseltinin ve engebeli arazilerin fazla olduğu suyunun akış hızı yüksek olan akarsular üzerinde bir hidroelektrik santrali kurmak istemektedir.




Bu bilgilere göre Hayri Bey'in kuracağı santral için aşağıdaki bölgelerden hangisinin akarsuları hidroelektrik santral kurmak için daha uygundur?

- A) Doğu Anadolu *Yükselti fazla*
C) Ege Kıyıları

- B) Marmara
D) İç Anadolu

İşleyen Zeka Yayınları

10. Aşağıda ön yargıyı anlatmak amacıyla bir görsel çizilmiştir.



Görsele bakılarak ön yargının;

- I. Farklılıklara karşı olumsuz tutum sergileme, ✓
II. Ayrımcılık, ✓
III. Bireyler arasındaki olumlu iletişime engel olma ✓
durumlarından hangilerine neden olduğu söylenebilir?

A) I ve II

B) I ve III

C) II ve III

D) I, II ve III

SOSYAL BİLGİLER TESTİ BİTTİ.
DİN KÜLTÜRÜ VE AHLAK BİLGİSİ TESTİNE GEÇİNİZ.