

Sosyal Bilimler

11. Suyun katı, sıvı ve gaz hâalde yeryüzü ile atmosfer arasında sürekli yer değiştirmesine "su döngüsü" denir.

Aşağıdaki biyomlardan hangisinin bu döngüde suyun atmosfere ulaşmasındaki katkısı daha fazladır?

- (A) Tuzlu su biyomu *Buharlaştırmanın etkisiyle su yüzeyinde*
 B) Tropikal yağmur ormanları biyomu
 C) Ilıman çayır biyomu
 D) Dağ biyomu
 E) Tundra biyomu
- Bitki Biyomu*

12. Ülkeler, ihtiyaçları ve amaçları doğrultusunda farklı nüfus politikaları uygulamaktadır. Bazı ülkeler, nüfus artış hızını yükseltmeyi amaçlayan politikalar uygulamaktadır.

Aşağıdakilerden hangisi bu ülkelere ait özelliklerden biri olamaz?

- A) Hizmet sektöründe çalışanların oranı fazladır. ✓
 B) Nüfus piramidinin tabanı dardır. ✓
 C) Teknoloji kullanımı fazladır. ✓
 D) Altyapı imkânları gelişmiştir. ✓
 (E) Dış göç verir.

Yulcarıda nüfus artışı arttırmaya çalışan yarı gelişmiş ülke özelliği verilmiştir. Gelişmiş ülkeler göç vermez, göç alırlar.

13. Konserveler ve içecek fabrikalarının Çanakkale, Balıkesir, Bursa, İzmir ve Aydın'da yoğunlaşmasının en önemli nedeni bu şehirlerin hangi özelliğe sahip olmasıdır?

- (A) Sebze ve meyve üretiminin fazla olması
 B) İthalatın yoğun olduğu limanların bulunması
 C) Ürünlerin taşınma maliyetlerinin düşük olması
 D) Rüzgâr gücünden enerji elde edilmesi
 E) Geniş alüvyal düzlüklerin bulunması

14. Aşağıda bir madenin çıkarıldığı yerler ile kullanım alanları verilmiştir.

- Demirci (Manisa), Simav (Kütahya), Çine (Aydın) ve Milas'tan (Muğla) çıkarılır.
- Seramik, porselen, cam, kaynak elektrotları ve boya sanayisinde kullanılır.

Bu madenin aşağıdakilerden hangisi olduğu söylenebilir?

- A) Barit *Alanya*
 B) Mermer *Alanya, Van, Bursa*
 (C) Feldspat *İzmir, Karaburun*
 D) Asbest *Eskişehir*
 E) Cıva *İzmir, Karaburun*

15. I. Mezopotamya, Hint ve Çin medeniyetleri genelde akarsu boylarında kurulmuştur. ✓

II. Bazı Akdeniz medeniyetleri, arazinin çok engebeli olmasından dolayı denizcilikte ilerlemiştir.

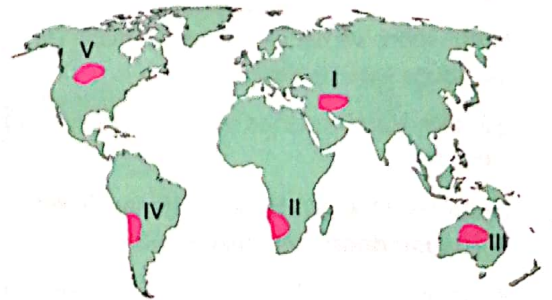
III. İnka medeniyeti deniz kıyısında kurulmuştur. ✓

Medeniyetlerle ilgili verilen numaralanmış özelliklerden hangileri doğrudur?

- A) Yalnız I B) Yalnız II (C) I ve II
 D) I ve III E) I, II ve III

İnka medeniyeti deniz kıyısında değil, And dağları üzerinde kurulmuştur.

16. Türk kültürü, çok geniş coğrafyaya yayılmıştır.



Buna göre yukarıdaki haritada numaralanmış alanların hangisinde Türk kültürüne ait izlere rastlanır?

- (A) I B) II C) III D) IV E) V

17. Birbirlerine yakın coğrafyalarda kurulmuş kültür bölgeleri arasında etkileşim fazladır.

Buna göre;

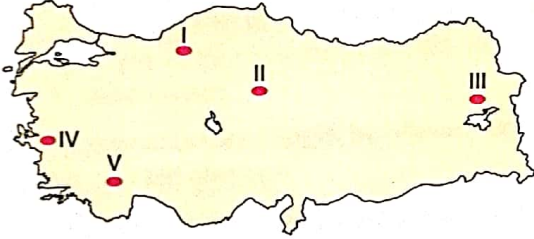
- I. Latin Amerika,
- II. Afrika,
- III. Slav-Rus,
- IV. Çin

kültür bölgelerinin hangileri arasındaki etkileşimin daha fazla olduğu söylenebilir?

- A) I ve II C) I ve III C) II ve III
D) II ve IV E) III ve IV

Rusya ve Çin coğrafik olarak birbirine yakın old. etkileşim daha fazladır.

18. Aşağıdaki Türkiye haritasında bazı alanlar numaralandırılarak gösterilmiştir.

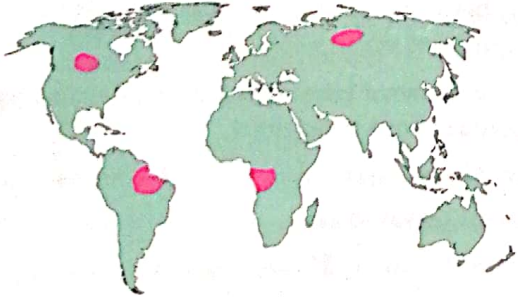


Numaralanmış alanların hangisinde kurulan uygarlık, coğrafi şartlara bağlı olarak hayvancılık ve madencilikle yaşamını devam ettirmiştir?

- A) I B) II C) III D) IV E) V

Van Gölü yanında kurulan Urartular koyun yetiştiriciliği ve kaya oymacılığında gelişmiştir.

19. Aşağıdaki haritada dünya üzerinde bazı önemli ham madde üretim alanları gösterilmiştir.



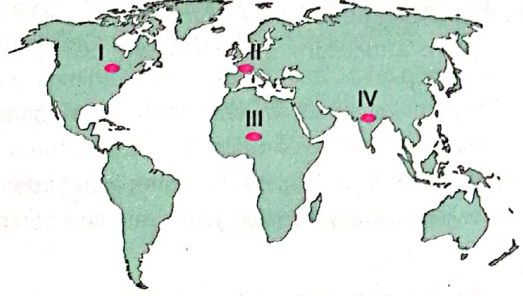
Bu alanlarda aşağıdaki ham maddelerden hangisinin üretimi yapılmaktadır?

- A) Ağaç B) Balık C) Petrol
D) Kahve E) Koyun

Yukarıda verilen alanlar ormanların bulunduğu alanlardır. Orman ürünleri?

hammadde olarak gelişmiştir.

20. Diğer ekonomik faaliyetlerde olduğu gibi turizm sektöründen de elde edilen gelirin dünya üzerindeki dağılımı eşit değildir.



Yukarıdaki haritada numaralanmış alanların hangilerinde turizm gelirleri diğerlerine göre daha yüksektir?

- A) I ve II B) I ve III C) II ve III
D) II ve IV E) III ve IV

Gelişmiş ülkelerde (Amerika, Fransa, İtalya, İspanya gibi) turizm faaliyetleri daha gel. old. için gelirler de yüksektir.

21. • Özünde ve sözünde temiz olmayanların, imanı tam değildir.
• Doğruluk, dost kapısıdır.
• Edep elbisesini sırtınızdan ölüncüye kadar çıkartmayınız.
• Oturduğun yeri pak et, kazandığın lokmayı hak et.

Hacı Bektaş-i Veli'nin bu öğütleri felsefenin hangi disiplininin kapsamında değerlendirilir?

- A) Ontoloji
B) Epistemoloji
C) Etik
D) Estetik
E) Din felsefesi